

# Revista Electronică MateInfo.ro

## IULIE 2012

### ISSN 2065 – 6432

[www.mateinfo.ro](http://www.mateinfo.ro)

### ARTICOLE :

1. 130 de ani de la nasterea marelui academician, matematician roman si profesor universitar Traian Lelescu	pag. 2
2. TRIUNGHIURI DE ARIE ȘI PERIMETRU DATE.APLICAȚII.	pag. 3
3. TEOREMA LUI SIMSON (metode de demonstrație)	pag. 35
4. Problema Lunii IUNIE 2012 (încă nerezolvată)	pag. 39

Coordonator: *Andrei Octavian Dobre* ([dobre.andrei@yahoo.com](mailto:dobre.andrei@yahoo.com))

E-mail pentru articole: [revistaelectronica@mateinfo.ro](mailto:revistaelectronica@mateinfo.ro)

# Revista MateInfo.ro din luna iulie 2012 îi este dedicată marelui matematician

## Traian Lalescu

Traian Lalescu s-a născut la data de 12 iulie 1882.

Luna acesta se implinesc **130 de ani** de la nasterea marelui academician, matematician roman și profesor universitar Traian Lalescu.



Pe tot parcursul studiilor sale, Traian Lalescu a fost premiantul I al clasei și preminantul de onoare al școlii, devenind încă din clasa a VI-a corespondent al Gazetei Matematice. După terminarea liceului, în toamna anului 1900, Traian Lalescu a dat examen de admitere la Școala de Poduri și Șosele din București, reușind primul, dar după trei ani se retrage și se înscrie la Facultatea de Științe a Universității din București, secția de Matematici. Printre profesorii săi se numărau Gheorghe Țițeica, Anton Davidoglu, Spiru Haret, Nicolae Coculescu și Ermil Pangrati. Obține titlul de licențiat în matematică în 1905 după care pleacă la Paris. La 28 februarie 1908 și-a susținut, la Sorbona, teza de doctorat cu titlul *Sur l'equation de Volterra* care va fi considerată prima contribuție de seamă în domeniul ecuațiilor integrale și prin aceasta unul dintre fondatorii teoriei ecuațiilor integrale. Ilustrul matematician Volterra a fost atât de impresionat de lucrarea lui Traian Lalescu, încât a introdus rezultatele acesteia în propria sa lucrare intitulată "Lecții asupra ecuațiilor integrale și integro-diferențiale". Reîntors în țară, funcționează în învățământul mediu la Giurgiu și București la Seminarul Central și la Gimnaziul „Gheorghe Șincai”. A publicat în 1911 cel dintâi tratat din lume asupra ecuațiilor integrale, intitulat *Introducere la teoria ecuațiilor integrale*, Editura Hermann Fils-Paris. În 1921 a editat la Timișoara "Revista Matematică".

Între 1920 și 1927 a scris „Tratat de geometrie analitică”, în patru volume. Traian Lalescu este autorul unei monografii intitulată „Geometria triunghiului” și al unor studii originale privind funcțiile spline. A elaborat studii în domeniile ecuațiilor funcționale, seriilor trigonometrice, fizicii matematice, geometriei, algebrei, istoriei matematicii.

Sursa: <http://ro.wikipedia.org/>

**TRIUNGHURI DE ARIE ȘI PERIMETRU DATE.APLICAȚII.**

NECULAI STANCIU, Buzău și TITU ZVONARU, Comănești

**Abstract.** Success in problem solving requires effort. These are not routine exercises. They are problems whose solutions depend of trying something new(like following: Given a right-angled triangle with area  $A$  and perimeter  $P$ , what conditions on  $A$  and  $P$  guarantee that the triangle actually exists?).

**Keywords:** Heronian triangle, primitive triangle, right-angled triangles, area, perimeter.

**MSC:**51M16, 51M71.

Articolul este o continuare a lucrărilor [16,17] și are ca scop prezentarea unui set de probleme reprezentative care au în ipoteză aria unui triunghi ( $A$ ) și perimetrul acestuia ( $P$ ).

Mai mulți autori au propus probleme care aveau ca date inițiale  $A$  și  $P$ , fără a se examina dacă triunghiul respectiv există în realitate (vezi [12]).

Se știe că pentru un triunghi oarecare avem:

$$P^2 \geq 12\sqrt{3} \cdot A \Leftrightarrow A \leq \frac{P^2 \sqrt{3}}{36} \quad (1)$$

În relațiile de mai sus avem egalitate dacă și numai dacă triunghiul este echilateral.

Vom demonstra relația (1) folosind inegalitatea izoperimetrică.

Din inegalitatea izoperimetrică pentru poligoane rezultă că dintre toate poligoanele de perimetru dat și același număr de laturi poligonul regulat are aria maximă, și dual, dintre toate poligoanele de arie dată și același număr de laturi poligonul regulat are perimetrul minim. Așadar pentru triunghiuri avem:

$$\left. \begin{array}{l} A \leq A_3 = \frac{l^2 \sqrt{3}}{4} \Leftrightarrow \frac{1}{A} \geq \frac{4}{l^2 \sqrt{3}} \\ P \geq P_3 = 3l \Leftrightarrow P^2 \geq 9l^2 \end{array} \right| \Rightarrow \frac{P^2}{A} \geq 12\sqrt{3} \approx 20,785$$

O condiție asemănătoare pentru existența triunghiurilor dreptunghice am stabilit în [16], pornind de la următorul:

**Exemplu.** Calculați lungimea ipotenuzei unui triunghi dreptunghic cu  $A = 8$  și  $P = 13$ .

*Soluție.* Este ușor de verificat că pentru  $A = 8$ ,  $P = 13$ , relația (1) este adevărată. Prima idee ar fi să rezolvăm sistemul:

$$\begin{cases} ab = 2A \\ a + b + \sqrt{a^2 + b^2} = P \end{cases}, \text{ unde } a, b \text{ sunt catetele triunghiului.}$$

Există însă și o cale mai "frumoasă" (vezi [13]). Dacă  $c$  este ipotenuză, avem:

$$P - c = a + b \Leftrightarrow P^2 - 2Pc + c^2 = a^2 + 2ab + b^2 \stackrel{a^2+b^2=c^2}{=} c^2 + 4A \Leftrightarrow P^2 - 4A = 2Pc, \text{ adică}$$

$$c = \frac{P^2 - 4A}{2P}.$$

În cazul nostru avem  $c = \frac{137}{26}$ ; să calculăm totuși și lungimile catetelor din sistemul de ecuații:

$$\begin{cases} ab = 16 \\ a + b = \frac{201}{26} \end{cases}$$

Obținem ecuația:

$$26x^2 - 201x + 416 = 0 \text{ cu soluțiile } x_{1,2} = \frac{201 \pm i\sqrt{2863}}{52},$$

așadar triunghiul considerat nu există!

În cazul unui triunghi dreptunghic condiția de existență este:

$$P \geq 2(1 + \sqrt{2}) \cdot \sqrt{A} \Leftrightarrow P^2 \geq 4(3 + 2\sqrt{2}) \cdot A \Leftrightarrow A \leq \frac{P^2(3 - 2\sqrt{2})}{4} \quad (*)$$

Deci:

$$\frac{P^2}{A} \geq 4(3 + 2\sqrt{2}) \approx 23,314.$$

Întradevăr:

$$P - c = a + b \Leftrightarrow P^2 - 2Pc + c^2 = a^2 + 2ab + b^2 \stackrel{a^2+b^2=c^2}{=} c^2 + 4A \Leftrightarrow P^2 - 4A = 2Pc.$$

Rezultă:

$$c = \frac{P^2 - 4A}{2P}.$$

Din

$$a + b = P - c = P - \frac{P^2 - 4A}{2P} = \frac{P^2 + 4A}{2P} \Rightarrow b = \frac{P^2 + 4A}{2P} - a.$$

Apoi din

$$ab = 2A \Rightarrow a\left(\frac{P^2 + 4A}{2P} - a\right) = 2A \Rightarrow \frac{Pa^2}{2} - \left(\frac{P^2}{4} + A\right)a + AP = 0.$$

Dar, ultima ecuație are soluții reale dacă:

$$\Delta_a \geq 0 \Leftrightarrow \left(\frac{P^2}{4} + A\right)^2 - 4 \cdot \frac{P}{2} \cdot A \cdot P \geq 0 \Leftrightarrow \left(\frac{P^2}{4A}\right)^2 - 6\left(\frac{P^2}{4A}\right) + 1 \geq 0.$$

Rezolvând ultima inecuație obținem:

$$P^2 \geq 4A(3 + 2\sqrt{2}) \text{ sau } P^2 \leq 4A(3 - 2\sqrt{2}),$$

echivalente cu

$$P \geq 2(1 + \sqrt{2})\sqrt{A} \text{ sau } P \leq 2(\sqrt{2} - 1)\sqrt{A}.$$

Aceste ultime condiții trebuiesc corelate și cu condiția  $P > 2\sqrt{A}$ , de existență a ipotenuzei. Obținem că triunghiul dreptunghic de arie  $A$  și perimetru  $P$  există dacă și numai dacă avem:

$$P \geq 2(1 + \sqrt{2})\sqrt{A} \Leftrightarrow A \leq \frac{P^2(3 - 2\sqrt{2})}{4} \Leftrightarrow \frac{A}{P^2} \leq \frac{3 - 2\sqrt{2}}{4} \Leftrightarrow \frac{P^2}{A} \geq 4(3 + 2\sqrt{2})$$

În relațiile de mai sus avem egalitate dacă și numai dacă triunghiul este dreptunghic isoscel.

În continuare, vom prezenta un set de aplicații cu  $A$  și  $P$  - pe care le considerăm utile (unde nu vom mai pune problema existenței triunghiurilor aceasta fiind de cele mai multe ori evidentă).

### Aplicația 1. (vezi [3])

Determinați toate triunghiurile dreptunghice de arie  $A$  și perimetru  $P$  cu lungimile laturilor  $a, b, c$  numere naturale și cel mai mare divizor comun al lor  $(a, b, c) = 1$  astfel încât  $\frac{P^2}{A} \in N$ .

*Soluția 1.* Fie  $\frac{P^2}{A} = k \in N$ .

Se știe că

$$a = m^2 - n^2, b = 2mn, c = m^2 + n^2, m > n, (m, n) = 1, \text{ de paritate diferită.}$$

$$k = \frac{P^2}{A} = \frac{4m(m+n)}{n(m-n)} = \frac{4x(x+1)}{x-1}, \text{ unde } x = \frac{m}{n} \in \mathcal{Q}_+^*.$$

$$k = \frac{4x(x+1)}{x-1} \Leftrightarrow 4x^2 - (k-4)x + k = 0.$$

Din

$$x = \frac{k-4 \pm \sqrt{(k-4)^2 - 16k}}{8} \in \mathcal{Q}_+^*, \text{ rezultă că :}$$

$$\Delta = (k-4)^2 - 16k = (k-12)^2 - 128 = \text{pătrat perfect.}$$

Deci

$$(k-12)^2 - 128 = d^2, \text{ unde } d \in \mathcal{N}.$$

Se obține :

$$(k-12-d)(k-12+d) = 128 = 2^7 \Rightarrow \begin{cases} k-12-d = 2^t \\ k-12+d = 2^{7-t} \end{cases}, \text{ unde } t \in \{1,2,3\}.$$

Avem

$$x = \frac{k-4 \pm d}{8}.$$

Deci

$$x = \frac{k-4+d}{8} = 2^{7-t} + 1, \text{ sau } x = \frac{k-4-d}{8} = \frac{2^t+8}{8}.$$

Din faptul că  $(m, n) = 1$ , de paritate diferită rezultă  $x = \frac{2^t+8}{8}$ .

1) Pentru  $t = 1$ , avem:

$$x = \frac{5}{4} \Rightarrow m = 5, n = 4 \Rightarrow a = 9, b = 40, c = 41 \Rightarrow A = 180, P = 90 \Rightarrow k = 45;$$

2) Pentru  $t = 2$ , avem:

$$x = \frac{3}{2} \Rightarrow m = 3, n = 2 \Rightarrow a = 15, b = 12, c = 13 \Rightarrow A = 30, P = 30 \Rightarrow k = 30;$$

3) Pentru  $t = 3$ , avem:

$$x = \frac{2}{1} \Rightarrow m = 2, n = 1 \Rightarrow a = 3, b = 4, c = 5 \Rightarrow A = 6, P = 12 \Rightarrow k = 24$$

*Soluția 2.* Fie  $\frac{P^2}{A} = k \in N$ .

Se știe că  $a = m^2 - n^2, b = 2mn, c = m^2 + n^2, m > n, (m, n) = 1$ , de paritate diferită.

$$k = \frac{P^2}{A} = \frac{4m(m+n)}{n(m-n)} = 4 + \frac{4(m^2 + n^2)}{n(m-n)}.$$

Deoarece  $(m, n) = 1$ ,  $n$  nu poate fi divizor al expresiei  $m^2 + n^2$ , decât dacă avem posibilitățile:

1)  $n = 1 \Rightarrow k = 4 + \frac{4m^2 - 4 + 8}{m-1} = 4m + 8 + \frac{8}{m-1}$  și cum  $m$  este par deducem  $m = 2$ , adică  $a = 3, b = 4, c = 5, A = 6, P = 12, k = 24$ .

2)  $n = 2 \Rightarrow k = 4 + \frac{2m^2 - 8 + 16}{m-2} = 2m + 8 + \frac{16}{m-2}$  și cum  $m$  este impar deducem  $m = 3$ , adică  $a = 5, b = 12, c = 13, A = 30, P = 30, k = 30$ .

3)  $n = 4 \Rightarrow k = 4 + \frac{m^2 - 16 + 32}{m-4} = m + 8 + \frac{32}{m-4}$  și cum  $m$  este impar deducem  $m = 5$ , adică  $a = 9, b = 40, c = 41, A = 180, P = 90, k = 45$ .

Rezultate deosebite, în ceea ce privește triunghiurile *Heron* a stabilit matematicianul indian *K.R.S. Sastry* în [7], [8], [9], [10], și [11].

### Aplicația 2.

Determinați triunghiul cu dimensiunile maxime, numere naturale, a căror sumă este număr par pentru care aria este tot număr natural și este egală cu perimetrul acestuia.

*Soluție.* Notăm cu  $a, b, c$  dimensiunile laturilor, cu  $A$  aria, cu  $P$  perimetrul, și cu  $s$  semiperimetrul triunghiului.

Din ipoteză avem

$$s = \frac{a+b+c}{2} \in N^*. \text{Cum } s > a, s > b, s > c \text{ fără a pierde din generalitate presupunem că}$$

$$\exists m \geq 1, m \in N \text{ a.î. } s = c + m.$$

Din

$$\frac{a+b+c}{2} = c + m \Rightarrow c = a + b - 2m \quad (1)$$

Apoi din  $P = 2(a + b - m)$  ,  $s = a + b - m$  și formula lui Heron avem:

$$A^2 = s(s-a)(s-b)(s-c) = (a+b-m)(b-m)(a-m)m \quad (2)$$

Din ipoteza  $A = P$  și relația (2) rezultă :

$$\begin{aligned} A^2 = P^2 &\Leftrightarrow (a+b-m)(b-m)(a-m)m = 4(a+b-m)^2 \Leftrightarrow \\ &\Leftrightarrow b = m + \frac{4m}{am - m^2 - 4} . \end{aligned}$$

Deci dimensiunile sunt maxime pentru  $am - m^2 - 4 = 1 \Leftrightarrow m(a - m) = 5$ .

Avem două cazuri:

$$\begin{aligned} 1) &\begin{cases} m = 5 \\ a - m = 1 \end{cases} \Rightarrow a = 6, b = 29, c = 25; \\ 2) &\begin{cases} m = 1 \\ a - m = 5 \end{cases} \Rightarrow a = 6, b = 25, c = 29. \end{aligned}$$

Rezultă că triunghiul căutat are dimensiunile (6,25,29) iar  $A = P = 60$ .

### Aplicația 3.

Determinați toate triunghiurile dreptunghice cu lungimile laturilor numere naturale care au:

- aria egală cu 84 unități de arie;
- perimetrul egal cu 24 unități de lungime.

*Soluție.* Considerăm lungimile laturilor  $a, b$  și  $c$ .

Avem

$$a^2 = b^2 + c^2 \Rightarrow (*) \begin{cases} a = x^2 + y^2 \\ c = x^2 - y^2 \\ b = 2xy \\ x > y \end{cases}; (x, y) \in N \times N.$$

$$a) A = \frac{bc}{2} = xy(x^2 - y^2) = xy(x+y)(x-y) > y \cdot y \cdot y \cdot 1 \Rightarrow y^3 < A$$



(1)  $84 = xy(x+y)(x-y) \Rightarrow y < 5$ . Singura soluție în mulțimea numerelor naturale a ecuației (1) este

$$x = 4; y = 3 \stackrel{(*)}{\Rightarrow} a = 25; b = 7; c = 24.$$

b)  $P = a + b + c = 2x(x + y)$

(2)  $x(x + y) = 12$ . Singura soluție în mulțimea numerelor naturale a ecuației (1) este:

$$x = 3; y = 1 \stackrel{(*)}{\Rightarrow} a = 10; b = 6; c = 8.$$

#### Aplicația 4.

Determinați toate triunghiurile cu lungimile laturilor numere naturale, care au aria egală cu semiperimetrul.

*Soluție.* Fără să pierdem generalitatea presupunem  $a \leq b \leq c$ .

Avem  $A = \sqrt{p(p-a)(p-b)(p-c)}$ , iar din  $A = p$ , rezultă:

$$(1) (b+c-a)(c+a-b)(a+b-c) = 4(a+b+c).$$

Notăm :

$$x = b+c-a, \quad y = c+a-b, \quad z = a+b-c,$$

Atunci:

$$a = \frac{y+z}{2}, \quad b = \frac{z+x}{2}, \quad c = \frac{x+y}{2}.$$

Ecuația (1) devine:

$$(2) xyz = 4(x+y+z).$$

Din cele de mai sus rezultă că  $x, y$  și  $z$  sunt numere naturale pare cu  $z \leq y \leq x$ .

Atunci:

$$xyz = 4(x+y+z) \leq 12x \Rightarrow yz \leq 12 \Rightarrow z = 2.$$

Acum ecuația (2) devine

$$x = 2 + \frac{16}{2y-4}, \text{ care implică } y = 4, x = 6.$$

Aceasta implică  $a = 3, b = 4, c = 5$ .

**Observație.** Singurul triunghi care are lungimile laturilor numere naturale și aria egală cu semiperimetrul este triunghiul dreptunghic cu lungimile laturilor: 3, 4 și 5.

**Aplicația 5.** (vezi [15])

Determinați toate triunghiurile dreptunghice cu lungimile laturilor numere naturale care au aria egală cu perimetrul.

*Soluție.* Considerăm lungimile laturilor  $a, b$  și  $c$ .

Avem

$$a^2 = b^2 + c^2 \Rightarrow (*) \begin{cases} a = x^2 + y^2 \\ c = x^2 - y^2 \\ b = 2xy \\ x > y \end{cases}; (x, y) \in \mathbb{N} \times \mathbb{N}.$$

$$A = \frac{bc}{2} = xy(x^2 - y^2) = xy(x + y)(x - y)$$

$$P = a + b + c = 2x(x + y)$$

$$A = P \Leftrightarrow 2x(x + y) = xy(x^2 - y^2) \Leftrightarrow y(x - y) = 2 \Rightarrow x = 3; y = 1 \text{ sau } x = 3, y = 2.$$

Există deci două triunghiuri pentru care  $A = P$  și anume:

triunghiul  $a = 10; b = 6; c = 8$ , respectiv, triunghiul  $a = 13; b = 12; c = 5$ .

**Aplicația 6.**

Arătați că nu există triunghiuri *Heron* cu lungimile laturilor numere prime.

*Soluție.* Din formula lui Heron avem că aria unui triunghi verifică:  $A^2 = s(s - a)(s - b)(s - c)$ , unde

$s = \frac{a + b + c}{2}$ , iar  $a, b$  și  $c$  sunt lungimile laturilor triunghiului.

Dacă  $p = a + b + c$ , atunci formula lui *Heron* se rescrie astfel:

$$16A^2 = p(p - 2a)(p - 2b)(p - 2c).$$

Deoarece membrul stâng este par,  $p$  trebuie să fie număr par. Există două posibilități:

**Cazul I.** Toate numerele  $a, b, c$  sunt pare.

Pentru că toate numerele  $a, b, c$  sunt pare și prime, rezultă  $a = b = c = 2$ .

Deci triunghiul este echilateral cu aria  $A = \sqrt{3}$ .

**Cazul II.** Unul dintre numerele  $a, b, c$  este par iar celelalte două sunt impare.

Fără să pierdem din generalitate, presupunem că  $a = 2$  iar  $b$  și  $c$  sunt impare.

Dacă  $b \neq c$ , putem lua  $b < c$ .

Atunci  $c - b \geq 2 \Leftrightarrow c \geq b + 2 = b + a$ , ceea ce reprezintă o contradicție cu inegalitatea triunghiului.

Deci,  $b = c$ . Acum  $p = 2 + 2b$ , și avem:

$$16A^2 = p(p-4)(p-2b)^2 = (2b+2)(2b-2) \cdot 4 \Leftrightarrow b^2 - A^2 = 1 \Leftrightarrow (b+A)(b-A) = 1.$$

Dar deoarece  $b + A \geq 2$ , ultima relație nu poate avea loc.

În concluzie, nu există triunghiuri *Heron* cu lungimile laturilor numere prime.

### Aplicația 7.

Considerăm un triunghi dreptunghic cu perimetrul  $P$  și aria  $A$  numere naturale.

Arătați că: ipotenuza este număr natural dacă și numai dacă  $P$  este număr natural par și  $\frac{P}{2}$  divide pe  $A$

$$\Leftrightarrow P|2A.$$

*Soluție.* Din  $c = \frac{P^2 - 4A}{2P} \in \mathbb{N} \Rightarrow 2P|P^2 - 4A$ .

$$\text{Din } 2P = \text{par} \Rightarrow P^2 - 4A = \text{par} \Rightarrow P = \text{par}.$$

Dacă  $P = 2k$  din (1) obținem

$$c = \frac{k^2 - A}{k} = k - \frac{A}{k} \quad (2)$$

Din  $P = 2k$  și  $P = \text{par} \Rightarrow k \in \mathbb{N}$ .

Din relația (2) rezultă că  $c \in \mathbb{N} \Leftrightarrow k|A \Leftrightarrow \frac{P}{2}|A$ , echivalent cu  $P|2A$ .

### Aplicația 8.

Determinați toate triunghiurile care au lungimile laturilor numere prime și pătratul ariei număr natural.

*Soluție.* Conform soluției aplicației 6, triunghiul echilateral de latură 2 are pătratul ariei egal cu 3.

**Observație.** Soluția de mai sus arată că - nu există triunghiuri cu lungimile laturilor numere prime și aria număr natural.

### Aplicația 9.

Determinați toate triunghiurile cu lungimile laturilor numere naturale (dintre care cel puțin unul este prim), semiperimetrul număr natural și aria egală numeric cu perimetrul acestuia.

*Soluție.* Notăm cu  $a, b, c$  lungimile laturilor, cu  $A$  aria, cu  $P$  perimetrul și cu  $s$  semiperimetrul triunghiului. Presupunem că  $a$  este număr prim. Cum  $s > c$ , notăm cu  $m \in \mathbb{N}, m \geq 1$  astfel încât  $s = c + m$

$$\text{.Din } \frac{a+b+c}{2} = c+m \text{ rezultă } c = a+b-2m, \text{ iar din } P = 2(a+b-m), s = a+b-m$$

și formula lui Heron avem:

$$A^2 = s(s-a)(s-b)(s-c) = (a+b-m)(b-m)(a-m)m$$

și apoi

$$A^2 = P^2 \Leftrightarrow (a+b-m)(b-m)(a-m)m = 4(a+b-m)^2 \Leftrightarrow b = m + \frac{4a}{am - m^2 - 4}.$$

Cum  $a$  este prim, avem posibilitățile:

$$1) am - m^2 - 4 = 1 \Rightarrow m(a-m) = 5 \Rightarrow (m=1, a=6), (m=5, a=6);$$

$$2) am - m^2 - 4 = 2 \Rightarrow m(a-m) = 6 \Rightarrow (m=6, a=7, b=20, c=15),$$

$$(m=3, a=5, b=13, c=12), (m=2, a=5, b=12, c=13), (m=1, a=7, b=15, c=20);$$

$$3) am - m^2 - 4 = 4 \Rightarrow m(a-m) = 8 \Rightarrow (m=8, a=9),$$

$$(m=4, a=6), (m=2, a=6), (m=1, a=9);$$

$$4) am - m^2 - 4 = a \Rightarrow a = \frac{m^2 + 4}{m-1} = m+1 + \frac{5}{m-1} \Rightarrow (m=2, a=8), (m=6, a=8);$$

$$5) am - m^2 - 4 = 2a \Rightarrow a = \frac{m^2 + 4}{m-2} = m+2 + \frac{8}{m-2} \Rightarrow (m=3, a=13, b=5, c=12),$$

$(m = 4, a = 10), (m = 6, a = 10), (m = 10, a = 13, b = 12, c = 5);$

$$6) am - m^2 - 4 = 4a \Rightarrow a = \frac{m^2 + 4}{m - 4} = m + 4 + \frac{20}{m - 4} \Rightarrow (m = 5, a = 29, b = 6, c = 25),$$

$(m = 6, a = 20), (m = 8, a = 17, b = 9, c = 10), (m = 9, a = 17, b = 10, c = 9), (m = 14, a = 20),$

$(m = 24, a = 29, b = 25, c = 6).$

În concluzie, triunghiurile cerute au laturile  $\{7,15,20\}, \{5,12,13\}, \{6,25,29\}, \{9,10,17\}.$

### Aplicația 10.

Determinați toate triunghiurile dreptunghice cu lungimile laturilor numere naturale știind că o latură are lungimea 2011.

*Soluție.* Se știe că lungimile laturilor, numere naturale, ale unui triunghi dreptunghic sunt date de:

$$(x^2 - y^2)k, (2xy)k \text{ și } (x^2 + y^2)k, \text{ unde } x, y \text{ și } k \text{ sunt numere naturale nenule cu } x > y.$$

Cum latura de lungime  $(2xy)k$  este număr par, vom considera doar cazurile în care  $(x^2 - y^2)k = 2011$  și  $(x^2 + y^2)k = 2011$ .

*Cazul 1.*  $(x^2 - y^2)k = 2011$ . Cum 2011 este număr prim rezultă  $k = 1$  sau  $k = 2011$ .

Dacă  $k = 2011$ , atunci  $x^2 - y^2 = 1$ , așa că  $(x - y)(x + y) = 1$ , de unde  $y = 0$ , contradicție! (deoarece  $y > 0$ ).

Dacă  $k = 1$ , atunci  $x^2 - y^2 = 2011 \Rightarrow (x - y)(x + y) = 2011 \Rightarrow x - y = 1$  și  $x + y = 2011$ , de unde  $x = 1006$  și  $y = 1005$ .

Rezultă triunghiul dreptunghic cu lungimile laturilor  $(2011, 2022060, 2022061)$ .

*Cazul 2.*  $(x^2 + y^2)k = 2011$ . Ca și la cazul 1, avem  $k = 1$  ( $k = 2011$ , nu este posibil deoarece  $x = 0$  sau  $y = 0$ ).

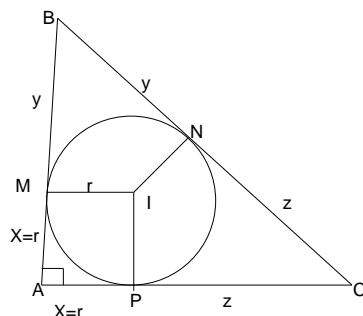
Așadar,  $x^2 + y^2 = 2011$ . Deoarece orice pătrat perfect este congruent cu 0 sau 1 modulo 4, iar  $2011 \equiv 3 \pmod{4}$  rezultă că ecuația  $x^2 + y^2 = 2011$ , nu are soluții numere naturale.

Deci, în acest caz nu există niciun triunghi dreptunghic.

Prin urmare există un singur triunghi ale cărui laturi au lungimile:  $(2011, 2022060, 2022061)$ .

**Aplicația 11.**(vezi [14]).

- Calculați lungimea razei cercului înscris într-un triunghi dreptunghic cu semiperimetrul  $p$  și lungimea ipotenuzei  $i$ , unde  $p > i$ ;
- Arătați că în cazul în care triunghiul este pitagoreic(cu lungimile laturilor numere naturale) lungimea razei cercului înscris este număr natural.



*Soluție.*

a) (1)  $p = r + y + z$ . Dar, (2)  $i = y + z$ . Din (1) și (2) rezultă imediat că:

$$r = p - i.$$

b) Este suficient să considerăm triunghiul dreptunghic primitiv. În acest caz ipotenuza este număr impar, o catetă este număr par, iar cealaltă catetă este număr impar. Dacă notăm cu  $P$  perimetrul triunghiului avem că  $P$  este număr par.

De la punctul a) avem că :

$$(3) r = \frac{P}{2} - i$$

Din faptul că  $P = \text{par} \Rightarrow (4) \frac{P}{2} \in \mathbb{N}$ .

Din ipoteză (5)  $i \in \mathbb{N}$ .

Din (4) și (5) rezultă  $r \in \mathbb{N}$ .

**Aplicația 12.**

Determinați lungimile laturilor unui triunghi dreptunghic pentru care  $r = 2013$  ( $r$  este raza cercului înscris) știind că acestea sunt numere naturale, prime între ele două câte două.

*Soluție.* Din figura de la aplicația 11, avem:

$$\begin{cases} y + z = a \\ z + r = b \\ y + r = c \end{cases} \Rightarrow 2a + 2r = a + b + c \Rightarrow (1)r = \frac{b + c - a}{2},$$

unde  $b, c$  sunt lungimile catetelor iar  $a$  este lungimea ipotenuzei.

Se știe că (2)  $b = 2mn, c = m^2 - n^2, a = m^2 + n^2$ , unde  $(m, n) = 1$ . Din (1) și (2) avem:

$$(3) r = n(m - n). \text{ Dar } r = 2013 = 3 \cdot 11 \cdot 61. \text{ Deci } n(m - n) = 3 \cdot 11 \cdot 61.$$

Rezultă că avem triunghiuri care verifică ipoteza:

- 1)  $n = 1, m = 2014, b = 4028, c = 4056195, a = 4055197$ ;
- 2)  $n = 3, m = 674, b = 4044, c = 454267, a = 454285$
- 3)  $n = 11, m = 194, b = 4268, c = 37515, a = 37757$
- 4)  $n = 33, m = 94, b = 6204, c = 7747, a = 9925$
- 5)  $n = 61, m = 94, b = 11468, c = 5115, a = 12557$
- 6)  $n = 183, m = 194, b = 71004, c = 4147, a = 71125$
- 7)  $n = 671, m = 674, b = 904508, c = 4035, a = 904517$
- 8)  $n = 2013, m = 2014, b = 8108364, c = 4027, a = 8108365$ .

### Aplicația 13.

Arătați că pentru orice număr natural  $n > 12$  există un triunghi pitagoreic a cărui arie se află în intervalul  $[n, 2n]$  (Analogie la *Postulatul lui Bertrand* care, afirmă că pentru  $n > 1$ , în intervalul  $(n, 2n)$  există cel puțin un număr prim).

*Soluție.* Dacă un triunghi dreptunghic are lungimile catetelor  $3k$  și  $4k$  atunci aria este  $A = 6k^2$ .

Deoarece ,

$$\frac{6(k+1)^2}{6k^2} < 2 \Rightarrow k > 2,$$

avem că:

$$\forall n \in [6k^2, 6(k+1)^2 - 1] \text{ numărul } 6(k+1)^2 \in [n, 2n].$$

Așadar:

- Dacă  $n \in [54,95] \Rightarrow 96 \in [n,2n]$ ;
- Dacă  $n \in [96,149] \Rightarrow 150 \in [n,2n]$ ;
- Dacă  $n \in [150,215] \Rightarrow 216 \in [n,2n]$ ;

și așa mai departe.

Pentru a completa demonstrația observăm că:

- Dacă  $n \in [13,23] \Rightarrow 24 \in [n,2n]$ , ex. triunghiul cu laturile (6,8,10);
- Dacă  $n \in [24,29] \Rightarrow 30 \in [n,2n]$ , ex. triunghiul cu laturile (5,12,13);
- Dacă  $n \in [30,53] \Rightarrow 54 \in [n,2n]$ , ex. triunghiul cu laturile (9,12,15).

#### Aplicația 14.

Numim triunghi "Super – Heron" , un triunghi care are lungimile laturilor numere naturale consecutive și aria tot număr natural.

Recent<sup>1</sup>(2007) s-a demonstrat existența unui număr infinit de astfel de triunghiuri.

Confirmați sau infirmați existența patruleterelor inscriptibile "Super – Heron" .

(Indicație. Folosiți formula ariei patruterului inscriptibil dată de matematicianul indian *Brahamgupta* în sec.VII - D.H:  $A = \sqrt{(s-a)(s-b)(s-c)(s-d)}$  , unde  $a, b, c, d$  sunt lungimile laturilor patruterului, iar  $s$  este semiperimetrul acestuia)

*Soluție.* Deoarece  $a, b, c, d$  sunt numere naturale consecutive luăm:

$$a = b - 1, b = c, c = b + 1 \text{ și } d = b + 2 .$$

Din formula lui *Brahamgupta* avem:  $A = \sqrt{(b+2)(b+1)(b)(b-1)}$  .

$$A \in \mathbb{N}^* \Leftrightarrow (b+2)(b+1)b(b-1) = (b^2 + b - 1)^2 - 1 = \text{pătrat perfect.}$$

Imposibil deoarece nu există pătrate perfecte a căror diferență să fie egală cu 1.

În concluzie nu există patrulater inscriptibile "Super – Heron"!

**Remarca 1.** În 1904, *Whitworth* și *Biddle* au arătat că există numai cinci triunghiuri Heron cu proprietatea  $A = P$  , și anume triunghiurile Heron cu laturile (6,8,10), (5,12,13), (6,25,29), (7,15,20) și (9,10,17) -vezi [1].

<sup>1</sup> <http://www.math.twsu.edu/~richardson/heronian/heronian.html>



**Remarca 2.** Deși, în [2], *Goehl*, prezintă un algoritm general pentru determinarea tuturor triunghiurilor dreptunghice, de tip *Heron* cu proprietatea  $A = mP$  ( $m \in \mathbb{N}$ ), problema se rezolvă în cazul general (pentru triunghiurile *Heron*, oarecare) abia peste mai mult de 20 de ani de către *Lubomir Markov* [4], care, după puțin timp vine chiar cu o metodă nouă [5]. O metodă diferită pentru rezolvarea problemei  $A = mP$ , pentru triunghiurile *Heron* oarecare este prezentată de către *Jizhou Li* în [6].

#### BIBLIOGRAFIE:

- [1] **L. Dickson**, *History of the Theory of Numbers*, Vol. II, Chelsea Publishing Co, NY, 1992 (reprint from 1923 edition).
- [2] **J. Goehl**, *Area=k(perimeter)*, Math. Teach. 79(1985), pp.330-332.
- [3] **John F. Goehl, Jr.**, *Pythagorean Triangles with Square of Perimeter Equal to an Integer Multiple of Area*, Forum Geometricorum, Vol. 9 (2009), pp. 281-282.
- [4] **L. Markov**, *Pythagorean triples and the problem  $A = mP$  for triangles*, Math. Mag. 79 (2006), pp.114-121.
- [5] **L. Markov**, *Heronian Triangles Whose Areas are Integer Multiple of their Perimeters*, Forum Geometricorum, (2007), pp.129-135.
- [6] [http://www.mathlab.mtu.edu/~jizhou/Site/Home\\_Page\\_files/Goehl's%20Problem.pdf](http://www.mathlab.mtu.edu/~jizhou/Site/Home_Page_files/Goehl's%20Problem.pdf)
- [7] **K.R.S. Sastry**, *Heron Problems*, Math. And Comput. Ed., 29(1995), pp.192-202
- [8] **K.R.S. Sastry**, *Heron Triangles: A New Perspective*, Aust. Math. Soc. Gazette, 26 (1999), pp. 160-168.
- [9] **K.R.S. Sastry**, *Heron Triangles*, Math. And Comput. Ed., 35 (2001), pp.51-60
- [10] **K.R.S. Sastry**, *A Heron Difference*, Crux mathematicorum with Mathematical Mayhem, 27 (2001), pp.22-26.
- [11] **K.R.S. Sastry**, *If  $(a, b, c)$  is Heron, can  $(s - a, s - b, s - c)$  also be Heron?*, Crux Mathematicorum with Mathematical Mayhem, 28 (2002), pp.23-27.

- [12] Problema E:14152, Gazeta Matematică – seria B, nr. 3/2011, p. 154.
- [13] Problema VIII.293, Revista de Matematică din Timișoara, nr. 4/2010, p. 17.
- [14] Problema S:E11.170, Gazeta Matematică-Supliment cu exerciții, Gazeta Matematică – seria B, nr. 5/2011, p. 7.
- [15] Problema S:E11.163, Gazeta Matematică-Supliment cu exerciții, Gazeta Matematică – seria B, nr. 5/2011, p. 7.
- [16] **Neculai Stanciu, Titu Zvonaru**, *O condiție de existență a triunghiurilor dreptunghice de arie și perimetru date*, Recreații Matematice, nr. 1/2012, pp.16-19.
- [17] **Titu Zvonaru**, *Triunghiuri de arie și perimetru date*, Articole și note matematice, Vol. IV, Societatea de Științe Matematice din România – Filiala Râmnicu Sărat, Editura Rafet, 2011, pp.120-129.

## TRIUNGHIURI DE ARIE ȘI PERIMETRU DATE.APLICAȚII.

NECULAI STANCIU, Buzău și TITU ZVONARU, Comănești

**Abstract.** Success in problem solving requires effort. These are not routine exercises. They are problems whose solutions depend of trying something new (like following: Given a right-angled triangle with area  $A$  and perimeter  $P$ , what conditions on  $A$  and  $P$  guarantee that the triangle actually exists?).

**Keywords:** Heronian triangle, primitive triangle, right-angled triangles, area, perimeter.

**MSC:** 51M16, 51M71.

Articolul este o continuare a lucrărilor [16,17] și are ca scop prezentarea unui set de probleme reprezentative care au în ipoteză aria unui triunghi ( $A$ ) și perimetrul acestuia ( $P$ ).

Mai mulți autori au propus probleme care aveau ca date inițiale  $A$  și  $P$ , fără a se examina dacă triunghiul respectiv există în realitate (vezi [12]).

Se știe că pentru un triunghi oarecare avem:

$$P^2 \geq 12\sqrt{3} \cdot A \Leftrightarrow A \leq \frac{P^2 \sqrt{3}}{36} \quad (1)$$

În relațiile de mai sus avem egalitate dacă și numai dacă triunghiul este echilateral.

Vom demonstra relația (1) folosind inegalitatea izoperimetrică.

Din inegalitatea izoperimetrică pentru poligoane rezultă că dintre toate poligoanele de perimetru dat și același număr de laturi poligonul regulat are aria maximă, și dual, dintre toate poligoanele de arie dată și același număr de laturi poligonul regulat are perimetrul minim. Așadar pentru triunghiuri avem:

$$\left. \begin{array}{l} A \leq A_3 = \frac{l^2 \sqrt{3}}{4} \Leftrightarrow \frac{1}{A} \geq \frac{4}{l^2 \sqrt{3}} \\ P \geq P_3 = 3l \Leftrightarrow P^2 \geq 9l^2 \end{array} \right| \Rightarrow \frac{P^2}{A} \geq 12\sqrt{3} \approx 20,785$$

O condiție asemănătoare pentru existența triunghiurilor dreptunghice am stabilit în [16], pornind de la următorul:

**Exemplu.** Calculați lungimea ipotenuzei unui triunghi dreptunghic cu  $A = 8$  și  $P = 13$ .

**Soluție.** Este ușor de verificat că pentru  $A = 8$ ,  $P = 13$ , relația (1) este adevărată. Prima idee ar fi să rezolvăm sistemul:

$$\begin{cases} ab = 2A \\ a + b + \sqrt{a^2 + b^2} = P \end{cases}, \text{ unde } a, b \text{ sunt catetele triunghiului.}$$

Există însă și o cale mai "frumoasă" (vezi [13]). Dacă  $c$  este ipotenuză, avem:

$$P - c = a + b \Leftrightarrow P^2 - 2Pc + c^2 = a^2 + 2ab + b^2 \stackrel{a^2+b^2=c^2}{=} c^2 + 4A \Leftrightarrow P^2 - 4A = 2Pc, \text{ adică}$$

$$c = \frac{P^2 - 4A}{2P}.$$

În cazul nostru avem  $c = \frac{137}{26}$ ; să calculăm totuși și lungimile catetelor din sistemul de ecuații:

$$\begin{cases} ab = 16 \\ a + b = \frac{201}{26} \end{cases}$$

Obținem ecuația:

$$26x^2 - 201x + 416 = 0 \text{ cu soluțiile } x_{1,2} = \frac{201 \pm i\sqrt{2863}}{52},$$

așadar triunghiul considerat nu există!

În cazul unui triunghi dreptunghic condiția de existență este:

$$P \geq 2(1 + \sqrt{2}) \cdot \sqrt{A} \Leftrightarrow P^2 \geq 4(3 + 2\sqrt{2}) \cdot A \Leftrightarrow A \leq \frac{P^2(3 - 2\sqrt{2})}{4} \quad (*)$$

Deci:

$$\frac{P^2}{A} \geq 4(3 + 2\sqrt{2}) \approx 23,314.$$

Întradevăr:

$$P - c = a + b \Leftrightarrow P^2 - 2Pc + c^2 = a^2 + 2ab + b^2 \stackrel{a^2+b^2=c^2}{=} c^2 + 4A \Leftrightarrow P^2 - 4A = 2Pc.$$

Rezultă:

$$c = \frac{P^2 - 4A}{2P}.$$

Din

$$a + b = P - c = P - \frac{P^2 - 4A}{2P} = \frac{P^2 + 4A}{2P} \Rightarrow b = \frac{P^2 + 4A}{2P} - a.$$

Apoi din

$$ab = 2A \Rightarrow a\left(\frac{P^2 + 4A}{2P} - a\right) = 2A \Rightarrow \frac{Pa^2}{2} - \left(\frac{P^2}{4} + A\right)a + AP = 0.$$

Dar, ultima ecuație are soluții reale dacă:

$$\Delta_a \geq 0 \Leftrightarrow \left(\frac{P^2}{4} + A\right)^2 - 4 \cdot \frac{P}{2} \cdot A \cdot P \geq 0 \Leftrightarrow \left(\frac{P^2}{4A}\right)^2 - 6\left(\frac{P^2}{4A}\right) + 1 \geq 0.$$

Rezolvând ultima inecuație obținem:

$$P^2 \geq 4A(3 + 2\sqrt{2}) \text{ sau } P^2 \leq 4A(3 - 2\sqrt{2}),$$

echivalente cu

$$P \geq 2(1 + \sqrt{2})\sqrt{A} \text{ sau } P \leq 2(\sqrt{2} - 1)\sqrt{A}.$$

Aceste ultime condiții trebuiesc corelate și cu condiția  $P > 2\sqrt{A}$ , de existență a ipotenuzei. Obținem că triunghiul dreptunghic de arie  $A$  și perimetru  $P$  există dacă și numai dacă avem:

$$P \geq 2(1 + \sqrt{2})\sqrt{A} \Leftrightarrow A \leq \frac{P^2(3 - 2\sqrt{2})}{4} \Leftrightarrow \frac{A}{P^2} \leq \frac{3 - 2\sqrt{2}}{4} \Leftrightarrow \frac{P^2}{A} \geq 4(3 + 2\sqrt{2})$$

În relațiile de mai sus avem egalitate dacă și numai dacă triunghiul este dreptunghic isoscel.

În continuare, vom prezenta un set de aplicații cu  $A$  și  $P$  - pe care le considerăm utile (unde nu vom mai pune problema existenței triunghiurilor aceasta fiind de cele mai multe ori evidentă).

### Aplicația 1. (vezi [3])

Determinați toate triunghiurile dreptunghice de arie  $A$  și perimetru  $P$  cu lungimile laturilor  $a, b, c$  numere naturale și cel mai mare divizor comun al lor  $(a, b, c) = 1$  astfel încât  $\frac{P^2}{A} \in \mathbb{N}$ .

*Soluția 1.* Fie  $\frac{P^2}{A} = k \in \mathbb{N}$ .

Se știe că

$$a = m^2 - n^2, b = 2mn, c = m^2 + n^2, m > n, (m, n) = 1, \text{ de paritate diferită.}$$

$$k = \frac{P^2}{A} = \frac{4m(m+n)}{n(m-n)} = \frac{4x(x+1)}{x-1}, \text{ unde } x = \frac{m}{n} \in \mathbb{Q}_+^*.$$

$$k = \frac{4x(x+1)}{x-1} \Leftrightarrow 4x^2 - (k-4)x + k = 0.$$

Din

$$x = \frac{k-4 \pm \sqrt{(k-4)^2 - 16k}}{8} \in \mathcal{Q}_+^*, \text{ rezultă că :}$$

$$\Delta = (k-4)^2 - 16k = (k-12)^2 - 128 = \text{pătrat perfect.}$$

Deci

$$(k-12)^2 - 128 = d^2, \text{ unde } d \in \mathcal{N}.$$

Se obține :

$$(k-12-d)(k-12+d) = 128 = 2^7 \Rightarrow \begin{cases} k-12-d = 2^t \\ k-12+d = 2^{7-t} \end{cases}, \text{ unde } t \in \{1,2,3\}.$$

Avem

$$x = \frac{k-4 \pm d}{8}.$$

Deci

$$x = \frac{k-4+d}{8} = 2^{7-t} + 1, \text{ sau, } x = \frac{k-4-d}{8} = \frac{2^t + 8}{8}.$$

Din faptul că  $(m,n) = 1$ , de paritate diferită rezultă  $x = \frac{2^t + 8}{8}$ .

4) Pentru  $t = 1$ , avem:

$$x = \frac{5}{4} \Rightarrow m = 5, n = 4 \Rightarrow a = 9, b = 40, c = 41 \Rightarrow A = 180, P = 90 \Rightarrow k = 45;$$

5) Pentru  $t = 2$ , avem:

$$x = \frac{3}{2} \Rightarrow m = 3, n = 2 \Rightarrow a = 15, b = 12, c = 13 \Rightarrow A = 30, P = 30 \Rightarrow k = 30;$$

6) Pentru  $t = 3$ , avem:

$$x = \frac{2}{1} \Rightarrow m = 2, n = 1 \Rightarrow a = 3, b = 4, c = 5 \Rightarrow A = 6, P = 12 \Rightarrow k = 24$$

*Soluția 2.* Fie  $\frac{P^2}{A} = k \in \mathcal{N}$ .

Se știe că  $a = m^2 - n^2, b = 2mn, c = m^2 + n^2, m > n, (m, n) = 1$ , de paritate diferită.

$$k = \frac{P^2}{A} = \frac{4m(m+n)}{n(m-n)} = 4 + \frac{4(m^2 + n^2)}{n(m-n)}.$$

Deoarece  $(m, n) = 1$ ,  $n$  nu poate fi divizor al expresiei  $m^2 + n^2$ , decât dacă avem posibilitățile:

$$1) n = 1 \Rightarrow k = 4 + \frac{4m^2 - 4 + 8}{m-1} = 4m + 8 + \frac{8}{m-1} \text{ și cum } m \text{ este par deducem } m = 2, \text{ adică}$$

$$a = 3, b = 4, c = 5, A = 6, P = 12, k = 24.$$

$$2) n = 2 \Rightarrow k = 4 + \frac{2m^2 - 8 + 16}{m-2} = 2m + 8 + \frac{16}{m-2} \text{ și cum } m \text{ este impar deducem } m = 3, \text{ adică}$$

$$a = 5, b = 12, c = 13, A = 30, P = 30, k = 30.$$

$$3) n = 4 \Rightarrow k = 4 + \frac{m^2 - 16 + 32}{m-4} = m + 8 + \frac{32}{m-4} \text{ și cum } m \text{ este impar deducem } m = 5, \text{ adică}$$

$$a = 9, b = 40, c = 41, A = 180, P = 90, k = 45.$$

Rezultate deosebite, în ceea ce privește triunghiurile *Heron* a stabilit matematicianul indian *K.R.S. Sastry* în [7], [8], [9], [10], și [11].

### Aplicația 2.

Determinați triunghiul cu dimensiunile maxime, numere naturale, a căror sumă este număr par pentru care aria este tot număr natural și este egală cu perimetrul acestuia.

*Soluție.* Notăm cu  $a, b, c$  dimensiunile laturilor, cu  $A$  aria, cu  $P$  perimetrul, și cu  $s$  semiperimetrul triunghiului.

Din ipoteză avem

$$s = \frac{a+b+c}{2} \in \mathbb{N}^*. \text{ Cum } s > a, s > b, s > c \text{ fără a pierde din generalitate presupunem că}$$

$$\exists m \geq 1, m \in \mathbb{N} \text{ a.î. } s = c + m.$$

Din

$$\frac{a+b+c}{2} = c + m \Rightarrow c = a + b - 2m \quad (1)$$

Apoi din  $P = 2(a + b - m)$ ,  $s = a + b - m$  și formula lui *Heron* avem:

$$A^2 = s(s-a)(s-b)(s-c) = (a+b-m)(b-m)(a-m)m \quad (2)$$

Din ipoteza  $A = P$  și relația (2) rezultă :

$$A^2 = P^2 \Leftrightarrow (a+b-m)(b-m)(a-m)m = 4(a+b-m)^2 \Leftrightarrow$$

$$\Leftrightarrow b = m + \frac{4m}{am - m^2 - 4}.$$

Deci dimensiunile sunt maxime pentru  $am - m^2 - 4 = 1 \Leftrightarrow m(a - m) = 5$ .

Avem două cazuri:

$$1) \begin{cases} m = 5 \\ a - m = 1 \end{cases} \Rightarrow a = 6, b = 29, c = 25;$$

$$2) \begin{cases} m = 1 \\ a - m = 5 \end{cases} \Rightarrow a = 6, b = 25, c = 29.$$

Rezultă că triunghiul căutat are dimensiunile (6,25,29) iar  $A = P = 60$ .

### Aplicația 3.

Determinați toate triunghiurile dreptunghice cu lungimile laturilor numere naturale care au:

- aria egală cu 84 unități de arie;
- perimetrul egal cu 24 unități de lungime.

*Soluție.* Considerăm lungimile laturilor  $a, b$  și  $c$ .

Avem

$$a^2 = b^2 + c^2 \Rightarrow (*) \begin{cases} a = x^2 + y^2 \\ c = x^2 - y^2 \\ b = 2xy \\ x > y \end{cases}; (x, y) \in \mathbb{N} \times \mathbb{N}.$$

$$a) A = \frac{bc}{2} = xy(x^2 - y^2) = xy(x+y)(x-y) > y \cdot y \cdot y \cdot 1 \Rightarrow y^3 < A$$

(1)  $84 = xy(x+y)(x-y) \Rightarrow y < 5$ . Singura soluție în mulțimea numerelor naturale a ecuației (1) este

$$x = 4; y = 3 \stackrel{(*)}{\Rightarrow} a = 25; b = 7; c = 24.$$

$$b) P = a + b + c = 2x(x + y)$$



(2)  $x(x + y) = 12$ . Singura soluție în mulțimea numerelor naturale a ecuației (1) este:

$$x = 3; y = 1 \stackrel{(*)}{\Rightarrow} a = 10; b = 6; c = 8.$$

#### Aplicația 4.

Determinați toate triunghiurile cu lungimile laturilor numere naturale, care au aria egală cu semiperimetrul.

*Soluție.* Fără să pierdem generalitatea presupunem  $a \leq b \leq c$ .

Avem  $A = \sqrt{p(p-a)(p-b)(p-c)}$ , iar din  $A = p$ , rezultă:

$$(1) (b+c-a)(c+a-b)(a+b-c) = 4(a+b+c).$$

Notăm :

$$x = b+c-a, \quad y = c+a-b, \quad z = a+b-c,$$

Atunci:

$$a = \frac{y+z}{2}, \quad b = \frac{z+x}{2}, \quad c = \frac{x+y}{2}.$$

Ecuția (1) devine:

$$(2) xyz = 4(x+y+z).$$

Din cele de mai sus rezultă că  $x, y$  și  $z$  sunt numere naturale pare cu  $z \leq y \leq x$ .

Atunci:

$$xyz = 4(x+y+z) \leq 12x \Rightarrow yz \leq 12 \Rightarrow z = 2.$$

Acum ecuația (2) devine

$$x = 2 + \frac{16}{2y-4}, \text{ care implică } y = 4, x = 6.$$

Aceasta implică  $a = 3, b = 4, c = 5$ .

**Observație.** Singurul triunghi care are lungimile laturilor numere naturale și aria egală cu semiperimetrul este triunghiul dreptunghic cu lungimile laturilor: 3, 4 și 5.

**Aplicația 5.** (vezi [15])

Determinați toate triunghiurile dreptunghice cu lungimile laturilor numere naturale care au aria egală cu perimetrul.

*Soluție.* Considerăm lungimile laturilor  $a, b$  și  $c$ .

Avem

$$a^2 = b^2 + c^2 \Rightarrow (*) \begin{cases} a = x^2 + y^2 \\ c = x^2 - y^2 \\ b = 2xy \\ x > y \end{cases}; (x, y) \in \mathbb{N} \times \mathbb{N}.$$

$$A = \frac{bc}{2} = xy(x^2 - y^2) = xy(x + y)(x - y)$$

$$P = a + b + c = 2x(x + y)$$

$$A = P \Leftrightarrow 2x(x + y) = xy(x^2 - y^2) \Leftrightarrow y(x - y) = 2 \Rightarrow x = 3; y = 1 \text{ sau } x = 3, y = 2.$$

Există deci două triunghiuri pentru care  $A = P$  și anume:

triunghiul  $a = 10; b = 6; c = 8$ , respectiv, triunghiul  $a = 13; b = 12; c = 5$ .

#### Aplicația 6.

Arătați că nu există triunghiuri *Heron* cu lungimile laturilor numere prime.

*Soluție.* Din formula lui Heron avem că aria unui triunghi verifică:  $A^2 = s(s - a)(s - b)(s - c)$ , unde  $s = \frac{a + b + c}{2}$ , iar  $a, b$  și  $c$  sunt lungimile laturilor triunghiului.

Dacă  $p = a + b + c$ , atunci formula lui *Heron* se rescrie astfel:

$$16A^2 = p(p - 2a)(p - 2b)(p - 2c).$$

Deoarece membrul stâng este par,  $p$  trebuie să fie număr par. Există două posibilități:

**Cazul I.** Toate numerele  $a, b, c$  sunt pare.

Pentru că toate numerele  $a, b, c$  sunt pare și prime, rezultă  $a = b = c = 2$ .

Deci triunghiul este echilateral cu aria  $A = \sqrt{3}$ .

**Cazul II.** Unul dintre numerele  $a, b, c$  este par iar celelalte două sunt impare.

Fără să pierdem din generalitate, presupunem că  $a = 2$  iar  $b$  și  $c$  sunt impare.

Dacă  $b \neq c$ , putem lua  $b < c$ .

Atunci  $c - b \geq 2 \Leftrightarrow c \geq b + 2 = b + a$ , ceea ce reprezintă o contradicție cu inegalitatea triunghiului.

Deci,  $b = c$ . Acum  $p = 2 + 2b$ , și avem:

$$16A^2 = p(p-4)(p-2b)^2 = (2b+2)(2b-2) \cdot 4 \Leftrightarrow b^2 - A^2 = 1 \Leftrightarrow (b+A)(b-A) = 1.$$

Dar deoarece  $b + A \geq 2$ , ultima relație nu poate avea loc.

În concluzie, nu există triunghiuri *Heron* cu lungimile laturilor numere prime.

### Aplicația 7.

Considerăm un triunghi dreptunghic cu perimetrul  $P$  și aria  $A$  numere naturale.

Arătați că: ipotenuza este număr natural dacă și numai dacă  $P$  este număr natural par și  $\frac{P}{2}$  divide pe  $A$

$\Leftrightarrow P|2A$ .

*Soluție.* Din  $c = \frac{P^2 - 4A}{2P} \in \mathbb{N} \Rightarrow 2P|P^2 - 4A$ .

Din  $2P = \text{par} \Rightarrow P^2 - 4A = \text{par} \Rightarrow P = \text{par}$ .

Dacă  $P = 2k$  din (1) obținem

$$c = \frac{k^2 - A}{k} = k - \frac{A}{k} \quad (2)$$

Din  $P = 2k$  și  $P = \text{par} \Rightarrow k \in \mathbb{N}$ .

Din relația (2) rezultă că  $c \in \mathbb{N} \Leftrightarrow k|A \Leftrightarrow \frac{P}{2}|A$ , echivalent cu  $P|2A$ .

### Aplicația 8.

Determinați toate triunghiurile care au lungimile laturilor numere prime și pătratul ariei număr natural.

*Soluție.* Conform soluției aplicației 6, triunghiul echilateral de latură 2 are pătratul ariei egal cu 3.

**Observație.** Soluția de mai sus arată că - nu există triunghiuri cu lungimile laturilor numere prime și aria număr natural.

### Aplicația 9.

Determinați toate triunghiurile cu lungimile laturilor numere naturale (dintre care cel puțin unul este prim), semiperimetrul număr natural și aria egală numeric cu perimetrul acestuia.

*Soluție.* Notăm cu  $a, b, c$  lungimile laturilor, cu  $A$  aria, cu  $P$  perimetrul și cu  $s$  semiperimetrul triunghiului. Presupunem că  $a$  este număr prim. Cum  $s > c$ , notăm cu  $m \in \mathbb{N}, m \geq 1$  astfel încât  $s = c + m$

$$\text{Din } \frac{a+b+c}{2} = c+m \text{ rezultă } c = a+b-2m, \text{ iar din } P = 2(a+b-m), s = a+b-m$$

și formula lui Heron avem:

$$A^2 = s(s-a)(s-b)(s-c) = (a+b-m)(b-m)(a-m)m$$

și apoi

$$A^2 = P^2 \Leftrightarrow (a+b-m)(b-m)(a-m)m = 4(a+b-m)^2 \Leftrightarrow b = m + \frac{4a}{am - m^2 - 4}.$$

Cum  $a$  este prim, avem posibilitățile:

$$1) am - m^2 - 4 = 1 \Rightarrow m(a-m) = 5 \Rightarrow (m=1, a=6), (m=5, a=6);$$

$$2) am - m^2 - 4 = 2 \Rightarrow m(a-m) = 6 \Rightarrow (m=6, a=7, b=20, c=15),$$

$$(m=3, a=5, b=13, c=12), (m=2, a=5, b=12, c=13), (m=1, a=7, b=15, c=20);$$

$$3) am - m^2 - 4 = 4 \Rightarrow m(a-m) = 8 \Rightarrow (m=8, a=9),$$

$$(m=4, a=6), (m=2, a=6), (m=1, a=9);$$

$$4) am - m^2 - 4 = a \Rightarrow a = \frac{m^2 + 4}{m-1} = m+1 + \frac{5}{m-1} \Rightarrow (m=2, a=8), (m=6, a=8);$$

$$5) am - m^2 - 4 = 2a \Rightarrow a = \frac{m^2 + 4}{m-2} = m+2 + \frac{8}{m-2} \Rightarrow (m=3, a=13, b=5, c=12),$$

$$(m=4, a=10), (m=6, a=10), (m=10, a=13, b=12, c=5);$$

$$6) am - m^2 - 4 = 4a \Rightarrow a = \frac{m^2 + 4}{m-4} = m+4 + \frac{20}{m-4} \Rightarrow (m=5, a=29, b=6, c=25),$$

$$(m = 6, a = 20), (m = 8, a = 17, b = 9, c = 10), (m = 9, a = 17, b = 10, c = 9), (m = 14, a = 20),$$

$$(m = 24, a = 29, b = 25, c = 6).$$

În concluzie, triunghiurile cerute au laturile  $\{7,15,20\}, \{5,12,13\}, \{6,25,29\}, \{9,10,17\}$ .

### Aplicația 10.

Determinați toate triunghiurile dreptunghice cu lungimile laturilor numere naturale știind că o latură are lungimea 2011.

*Soluție.* Se știe că lungimile laturilor, numere naturale, ale unui triunghi dreptunghic sunt date de:

$$(x^2 - y^2)k, (2xy)k \text{ și } (x^2 + y^2)k, \text{ unde } x, y \text{ și } k \text{ sunt numere naturale nenule cu } x > y.$$

Cum latura de lungime  $(2xy)k$  este număr par, vom considera doar cazurile în care  $(x^2 - y^2)k = 2011$  și  $(x^2 + y^2)k = 2011$ .

*Cazul 1.*  $(x^2 - y^2)k = 2011$ . Cum 2011 este număr prim rezultă  $k = 1$  sau  $k = 2011$ .

Dacă  $k = 2011$ , atunci  $x^2 - y^2 = 1$ , așa că  $(x - y)(x + y) = 1$ , de unde  $y = 0$ , contradicție! (deoarece  $y > 0$ ).

Dacă  $k = 1$ , atunci  $x^2 - y^2 = 2011 \Rightarrow (x - y)(x + y) = 2011 \Rightarrow x - y = 1$  și  $x + y = 2011$ , de unde  $x = 1006$  și  $y = 1005$ .

Rezultă triunghiul dreptunghic cu lungimile laturilor  $(2011, 2022060, 2022061)$ .

*Cazul 2.*  $(x^2 + y^2)k = 2011$ . Ca și la cazul 1, avem  $k = 1$  ( $k = 2011$ , nu este posibil deoarece  $x = 0$  sau  $y = 0$ ).

Așadar,  $x^2 + y^2 = 2011$ . Deoarece orice pătrat perfect este congruent cu 0 sau 1 modulo 4, iar  $2011 \equiv 3 \pmod{4}$  rezultă că ecuația  $x^2 + y^2 = 2011$ , nu are soluții numere naturale.

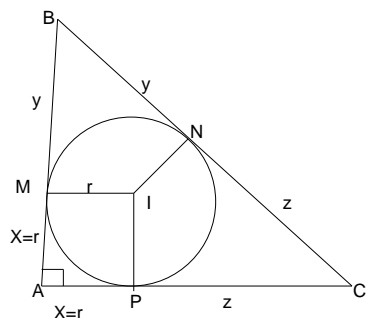
Deci, în acest caz nu există niciun triunghi dreptunghic.

Prin urmare există un singur triunghi ale cărui laturi au lungimile:  $(2011, 2022060, 2022061)$ .

### Aplicația 11. (vezi [14]).

- c) Calculați lungimea razei cercului înscris într-un triunghi dreptunghic cu semiperimetrul  $p$  și lungimea ipotenuzei  $i$ , unde  $p > i$ ;

- d) Arătați că în cazul în care triunghiul este pitagoreic (cu lungimile laturilor numere naturale) lungimea razei cercului înscris este număr natural.



*Soluție.*

- a) (1)  $p = r + y + z$ . Dar, (2)  $i = y + z$ . Din (1) și (2) rezultă imediat că:

$$r = p - i.$$

b) Este suficient să considerăm triunghiul dreptunghic primitiv. În acest caz ipotenuza este număr impar, o catetă este număr par, iar cealaltă catetă este număr impar. Dacă notăm cu  $P$  perimetrul triunghiului avem că  $P$  este număr par.

De la punctul a) avem că :

$$(3) \quad r = \frac{P}{2} - i$$

Din faptul că  $P = par \Rightarrow (4) \frac{P}{2} \in N$ .

Din ipoteză (5)  $i \in N$ .

Din (4) și (5) rezultă  $r \in N$ .

### Aplicația 12.

Determinați lungimile laturilor unui triunghi dreptunghic pentru care  $r = 2013$  ( $r$  este raza cercului înscris) știind că acestea sunt numere naturale, prime între ele două câte două.

*Soluție.* Din figura de la aplicația 11, avem:

$$\begin{cases} y + z = a \\ z + r = b \\ y + r = c \end{cases} \Rightarrow 2a + 2r = a + b + c \Rightarrow (1)r = \frac{b + c - a}{2},$$

unde  $b, c$  sunt lungimile catetelor iar  $a$  este lungimea ipotenuzei.

Se știe că (2)  $b = 2mn, c = m^2 - n^2, a = m^2 + n^2$ , unde  $(m, n) = 1$ . Din (1) și (2) avem:

$$(3) r = n(m - n). \text{ Dar } r = 2013 = 3 \cdot 11 \cdot 61. \text{ Deci } n(m - n) = 3 \cdot 11 \cdot 61.$$

Rezultă că avem triunghiuri care verifică ipoteza:

- 1)  $n = 1, m = 2014, b = 4028, c = 4056195, a = 4055197$ ;
- 2)  $n = 3, m = 674, b = 4044, c = 454267, a = 454285$
- 3)  $n = 11, m = 194, b = 4268, c = 37515, a = 37757$
- 4)  $n = 33, m = 94, b = 6204, c = 7747, a = 9925$
- 5)  $n = 61, m = 94, b = 11468, c = 5115, a = 12557$
- 6)  $n = 183, m = 194, b = 71004, c = 4147, a = 71125$
- 7)  $n = 671, m = 674, b = 904508, c = 4035, a = 904517$
- 8)  $n = 2013, m = 2014, b = 8108364, c = 4027, a = 8108365$ .

### Aplicația 13.

Arătați că pentru orice număr natural  $n > 12$  există un triunghi pitagoreic a cărui arie se află în intervalul  $[n, 2n]$  (Analogie la *Postulatul lui Bertrand* care, afirmă că pentru  $n > 1$ , în intervalul  $(n, 2n)$  există cel puțin un număr prim).

*Soluție.* Dacă un triunghi dreptunghic are lungimile catetelor  $3k$  și  $4k$  atunci aria este  $A = 6k^2$ .

Deoarece ,

$$\frac{6(k+1)^2}{6k^2} < 2 \Rightarrow k > 2,$$

avem că:

$$\forall n \in [6k^2, 6(k+1)^2 - 1] \text{ numărul } 6(k+1)^2 \in [n, 2n].$$

Așadar:

- Dacă  $n \in [54,95] \Rightarrow 96 \in [n,2n]$ ;
- Dacă  $n \in [96,149] \Rightarrow 150 \in [n,2n]$ ;
- Dacă  $n \in [150,215] \Rightarrow 216 \in [n,2n]$ ;

și așa mai departe.

Pentru a completa demonstrația observăm că:

- Dacă  $n \in [13,23] \Rightarrow 24 \in [n,2n]$ , ex. triunghiul cu laturile (6,8,10);
- Dacă  $n \in [24,29] \Rightarrow 30 \in [n,2n]$ , ex. triunghiul cu laturile (5,12,13);
- Dacă  $n \in [30,53] \Rightarrow 54 \in [n,2n]$ , ex. triunghiul cu laturile (9,12,15).

#### Aplicația 14.

Numim triunghi "Super – Heron" , un triunghi care are lungimile laturilor numere naturale consecutive și aria tot număr natural.

Recent<sup>2</sup>(2007) s-a demonstrat existența unui număr infinit de astfel de triunghiuri.

Confirmați sau infirmați existența patruleterelor inscriptibile "Super – Heron" .

(Indicație. Folosiți formula ariei patruterului inscriptibil dată de matematicianul indian *Brahamgupta* în sec.VII - D.H:  $A = \sqrt{(s-a)(s-b)(s-c)(s-d)}$  , unde  $a, b, c, d$  sunt lungimile laturilor patruterului, iar  $s$  este semiperimetrul acestuia)

*Soluție.* Deoarece  $a, b, c, d$  sunt numere naturale consecutive luăm:

$$a = b - 1, b = c, c = b + 1 \text{ și } d = b + 2 .$$

Din formula lui *Brahamgupta* avem:  $A = \sqrt{(b+2)(b+1)(b)(b-1)}$  .

$$A \in \mathbb{N}^* \Leftrightarrow (b+2)(b+1)b(b-1) = (b^2 + b - 1)^2 - 1 = \text{pătrat perfect.}$$

Imposibil deoarece nu există pătrate perfecte a căror diferență să fie egală cu 1.

În concluzie nu există patrulatere inscriptibile "Super – Heron"!

**Remarca 1.** În 1904, *Whitworth* și *Biddle* au arătat că există numai cinci triunghiuri Heron cu proprietatea  $A = P$  , și anume triunghiurile Heron cu laturile (6,8,10), (5,12,13), (6,25,29), (7,15,20) și (9,10,17) -vezi [1].

<sup>2</sup> <http://www.math.twsu.edu/~richardson/heronian/heronian.html>



**Remarca 2.** Deși, în [2], *Goehl*, prezintă un algoritm general pentru determinarea tuturor triunghiurilor dreptunghice, de tip *Heron* cu proprietatea  $A = mP$  ( $m \in \mathbb{N}$ ), problema se rezolvă în cazul general (pentru triunghiurile *Heron*, oarecare) abia peste mai mult de 20 de ani de către *Lubomir Markov* [4], care, după puțin timp vine chiar cu o metodă nouă [5]. O metodă diferită pentru rezolvarea problemei  $A = mP$ , pentru triunghiurile *Heron* oarecare este prezentată de către *Jizhou Li* în [6].

#### BIBLIOGRAFIE:

- [1] **L. Dickson**, *History of the Theory of Numbers*, Vol. II, Chelsea Publishing Co, NY, 1992 (reprint from 1923 edition).
- [2] **J. Goehl**, *Area=k(perimeter)*, *Math. Teach.* 79(1985), pp.330-332.
- [3] **John F. Goehl, Jr.**, *Pythagorean Triangles with Square of Perimeter Equal to an Integer Multiple of Area*, *Forum Geometricorum*, Vol. 9 (2009), pp. 281-282.
- [4] **L. Markov**, *Pythagorean triples and the problem  $A = mP$  for triangles*, *Math. Mag.* 79 (2006), pp.114-121.
- [5] **L. Markov**, *Heronian Triangles Whose Areas are Integer Multiple of their Perimeters*, *Forum Geometricorum*, (2007), pp.129-135.
- [6] [http://www.mathlab.mtu.edu/~jizhou/Site/Home\\_Page\\_files/Goehl's%20Problem.pdf](http://www.mathlab.mtu.edu/~jizhou/Site/Home_Page_files/Goehl's%20Problem.pdf)
- [7] **K.R.S. Sastry**, *Heron Problems*, *Math. And Comput. Ed.*, 29(1995), pp.192-202
- [8] **K.R.S. Sastry**, *Heron Triangles: A New Perspective*, *Aust. Math. Soc. Gazette*, 26 (1999), pp. 160-168.
- [9] **K.R.S. Sastry**, *Heron Triangles*, *Math. And Comput. Ed.*, 35 (2001), pp.51-60
- [10] **K.R.S. Sastry**, *A Heron Difference*, *Crux mathematicorum with Mathematical Mayhem*, 27 (2001), pp.22-26.
- [11] **K.R.S. Sastry**, *If  $(a, b, c)$  is Heron, can  $(s - a, s - b, s - c)$  also be Heron?*, *Crux Mathematicorum with Mathematical Mayhem*, 28 (2002), pp.23-27.

- [12] Problema E:14152, Gazeta Matematică – seria B, nr. 3/2011, p. 154.
- [13] Problema VIII.293, Revista de Matematică din Timișoara, nr. 4/2010, p. 17.
- [14] Problema S:E11.170, Gazeta Matematică-Supliment cu exerciții, Gazeta Matematică – seria B, nr. 5/2011, p. 7.
- [15] Problema S:E11.163, Gazeta Matematică-Supliment cu exerciții, Gazeta Matematică – seria B, nr. 5/2011, p. 7.
- [16] **Neculai Stanciu, Titu Zvonaru**, *O condiție de existență a triunghiurilor dreptunghice de arie și perimetru date*, Recreații Matematice, nr. 1/2012, pp.16-19.
- [17] **Titu Zvonaru**, *Triunghiuri de arie și perimetru date*, Articole și note matematice, Vol. IV, Societatea de Științe Matematice din România – Filiala Râmnicu Sărat, Editura Rafet, 2011, pp.120-129.

**TEOREMA LUI SIMSON**

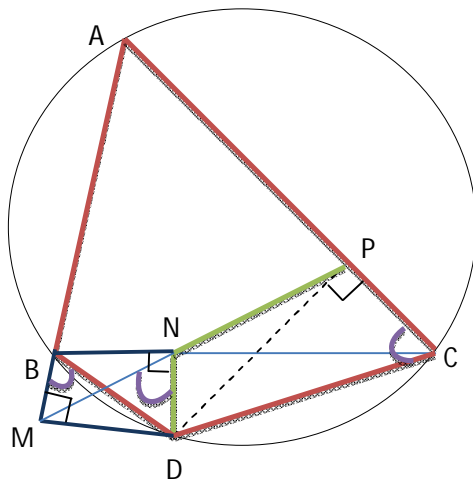
*Profesor :ANGELICA UNGUREANU*

*Școala:GRUP ȘCOLAR “ALEXANDRU CEL BUN”-BOTOȘANI*

**TEOREMA LUI SIMSON :Proiecțiile unui punct de pe cercul circumscris unui triunghi pe laturile acestuia sunt coliniare.**

Dreapta ce conține aceste puncte se numește *dreapta lui Simson*. Voi prezenta câteva metode de demonstrație a acestei teoreme, utilizând diferite metode de a arăta coliniaritatea a trei puncte în plan.

**METODA 1** (arătca  $\sphericalangle(MND)$  și  $\sphericalangle(DNP)$  sunt suplementare)



Fie  $\Delta ABC$ ,  $D$  un punct pe arcul  $BC$ .

Notez:  $M = pr_{AB}D$ ,  $N = pr_{BC}D$ ,  $P = pr_{AC}D$ .

În patrulaterul inscriptibil  $ABDC$ :  $m(\sphericalangle ACD) + m(\sphericalangle ABD) = 180^\circ$ .

Dar  $m(\sphericalangle ABD) + m(\sphericalangle MBD) = 180^\circ$ , de unde  $m(\sphericalangle ACD) = m(\sphericalangle MBD)$  (1).

În patrulaterul  $BMDN$ :  $m(\sphericalangle BMD) + m(\sphericalangle BND) = 180^\circ$ , deci  $BMDN$  este inscriptibil.

Atunci:  $m(\sphericalangle MBD) = m(\sphericalangle MND)$ . (2)

În patrulaterul  $DNPC$ :  $m(\sphericalangle DNC) = m(\sphericalangle DPC) = 90^\circ$  de unde  $DNPC$  este inscriptibil.

Atunci:  $m(\sphericalangle PCD) + m(\sphericalangle DNP) = 180^\circ$

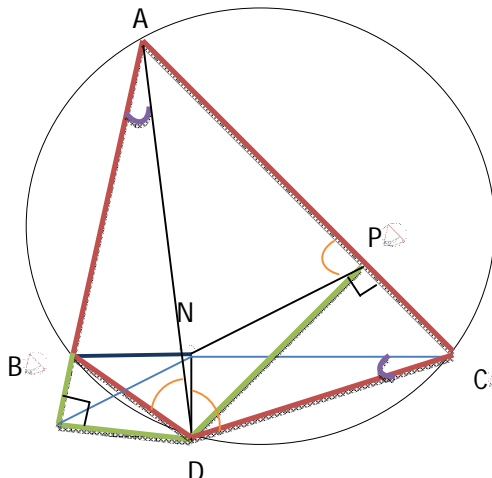
Și cum  $P \in AC$  rezultă:  $m(\sphericalangle ACD) + m(\sphericalangle DNP) = 180^\circ$  (3)

Din relațiile (1), (2) și (3) rezultă:  $m(\sphericalangle MND) + m(\sphericalangle DNP) = 180^\circ$

Ceeace arată că punctele  $M, N$  și  $P$  sunt coliniare.

**METODA a 2-a** (aratca  $\sphericalangle(APN)$  și  $\sphericalangle(APM)$  sunt egale)

În patrulaterul AMDP:



$$m(\sphericalangle AMD) + m(\sphericalangle DPA) = 180^{\circ}$$

de unde AMDP este inscriptibil.

$$\text{Atunci } m(\sphericalangle ADM) = m(\sphericalangle APM) \quad (1)$$

În patrulaterul CNDP :

$$m(\sphericalangle CPD) + m(\sphericalangle CND) = 180^{\circ}$$

De unde CNDP este inscriptibil.

$$\text{Atunci: } m(\sphericalangle CDN) + m(\sphericalangle CPN) = 180^{\circ}$$

și cum  $m(\sphericalangle CPN) + m(\sphericalangle APN) = 180^{\circ}$

se obține:  $m(\sphericalangle CDN) = m(\sphericalangle APN)$  (2)

În  $\triangle AMD$  (dreptunghic în M) :  $m(\sphericalangle ADM) + m(\sphericalangle DAM) = 90^{\circ}$ .

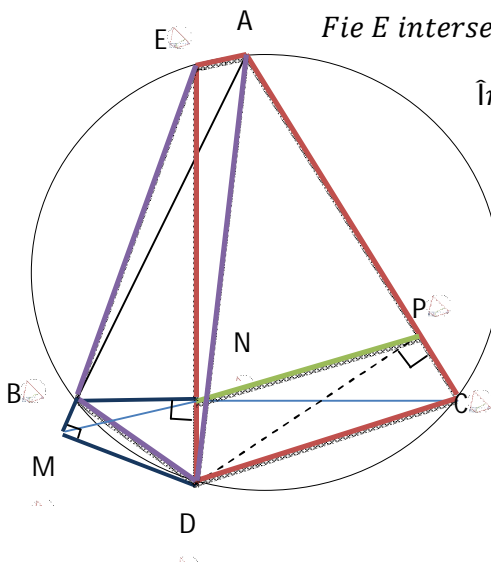
În  $\triangle DNC$  (dreptunghic în N) :  $m(\sphericalangle CDN) + m(\sphericalangle DCN) = 90^{\circ}$ .

Dar :  $m(\sphericalangle DCN) = m(\sphericalangle DAM)$  (în patrulaterul inscriptibil ABDC)

De unde se obține

:  $m(\sphericalangle CDN) = m(\sphericalangle ADM) \stackrel{(2)}{\Rightarrow} m(\sphericalangle ADM) = m(\sphericalangle APN) \stackrel{(1)}{\Rightarrow} m(\sphericalangle APN) = m(\sphericalangle APM)$ , ceea ce arată că punctele M , N și P sunt coliniare.

**METODA a 3-a** (folosește axioma lui Euclid)



Fie E intersecția dintre cerc și dreapta DN.

În patrulaterul inscriptibil BMDN:

$$m(\sphericalangle BMN) = m(\sphericalangle BDN)$$

și cum A, B, M coliniare:

$$m(\sphericalangle AMN) = m(\sphericalangle BDN) \quad (1)$$

În patrulaterul inscriptibil AEED:

$$m(\sphericalangle BDE) = m(\sphericalangle BAE)$$

și cum D, N, E coliniare

$$m(\sphericalangle BDN) = m(\sphericalangle MAE) \quad (2)$$

$$\stackrel{(1),(2)}{\implies} m(\sphericalangle AMN) = m(\sphericalangle MAE) \implies MN \parallel AE \quad (3)$$

În patrulaterul inscriptibil ACDE:  $m(\sphericalangle ACD) + m(\sphericalangle DEA) = 180^\circ$ .

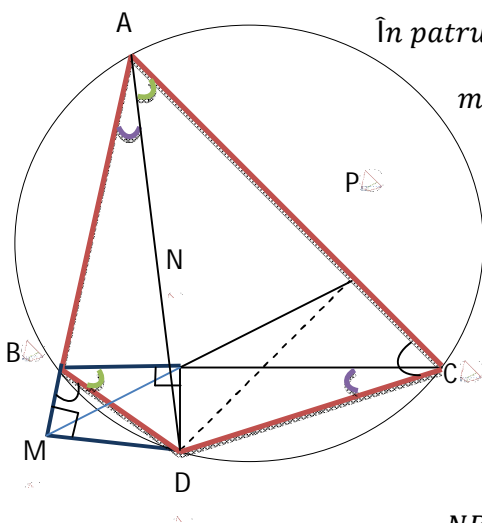
Dar  $m(\sphericalangle PCD) + m(\sphericalangle DNP) = 180^\circ$  (în patrulaterul inscriptibil PCDN)

Și cum  $m(\sphericalangle DNP) + m(\sphericalangle PNE) = 180^\circ \implies m(\sphericalangle ACD) = m(\sphericalangle PNE)$

Se obține :  $m(\sphericalangle PNE) + m(\sphericalangle NEA) = 180^\circ$  de unde  $NP \parallel AE$  (4)

$\stackrel{(3),(4)}{\implies}$  punctele N , M și P sunt coliniare (conform algoritmului lui Euclid)

**METODA a 4-a** (folosesc reciproca teoremei lui Menelaus)



În patrulaterul inscriptibil ABDC:

$$m(\sphericalangle BAD) = m(\sphericalangle BCD) \implies$$

$$\implies \Delta MAD \sim \Delta NCD \text{ (UU)} \implies \frac{MA}{NC} = \frac{AD}{CD} = \frac{MD}{ND} \quad (1)$$

În patrulaterul inscriptibil ABDC:

$$m(\sphericalangle DBC) = m(\sphericalangle DAP) \implies$$

$$\implies \Delta DBN \sim \Delta DAP \text{ (UU)} \implies$$

$$\frac{NB}{PA} = \frac{BD}{AD} = \frac{ND}{AD} \quad (2)$$

În patrulaterul inscriptibil ABDC:  $m(\sphericalangle ACD) + m(\sphericalangle ABD) = 180^\circ$

Dar :  $m(\sphericalangle DBM) + m(\sphericalangle ABD) = 180^\circ$

Atunci :  $m(\sphericalangle ACD) = m(\sphericalangle DBM) \implies \Delta PCD \sim \Delta MBD \implies$

$$\implies \frac{PC}{MB} = \frac{CD}{BD} = \frac{DP}{DM} \quad (3)$$

$$\stackrel{(1),(2),(3)}{\implies} \frac{MA}{NC} \cdot \frac{NB}{PA} \cdot \frac{PC}{MB} = \frac{AD}{CD} \cdot \frac{BD}{AD} \cdot \frac{CD}{BD} = 1$$

$\implies$  punctele M , N și P sunt coliniare ( conform reciprocei teoremei lui Menelaus)

**METODA a 5-a** (folosesc axioma lui Euclid)

Construiesc prin punctul D o paralelă la MN  
ce intersectează cercul în punctul E

$DE \parallel MN \Rightarrow m(\sphericalangle NDE) = m(\sphericalangle MND)$

Patrulaterul MBND este inscriptibil  $\Rightarrow$   
 $m(\sphericalangle MND) = m(\sphericalangle MBD)$

Patrulaterul ABDC este inscriptibil  $\Rightarrow$   
 $m(\sphericalangle DBA) + m(\sphericalangle DCA) = 180^\circ$

și cum  $m(\sphericalangle MBD) + m(\sphericalangle DBA) = 180^\circ$

Se obține:  $m(\sphericalangle MBD) = m(\sphericalangle DCA)$   
 $\Rightarrow m(\sphericalangle NDE) = m(\sphericalangle DCA)$

În patrulaterul inscriptibil NDCP :  $m(\sphericalangle DCP) + m(\sphericalangle DNP) = 180^\circ \Rightarrow$

$$\Rightarrow m(\sphericalangle NDE) + m(\sphericalangle DNP) = 180^\circ \Rightarrow DE \parallel NP$$

și cum  $DE \parallel MN$  rezultă că punctele M, N și P sunt coliniare (din axioma lui Euclid)

**METODA a 6-a** (Folosesc unicitatea perpendiculară dintr-un punct pe o dreaptă.)

Fie  $AR \perp NP$ . Arat ca  $AR \perp MN$

Deoarece  $AR \perp NP$  și  $DP \perp AC \Rightarrow$   
 $\Rightarrow m(\sphericalangle PAR) = m(\sphericalangle DPN)$

Patrulaterul DCPN este inscriptibil  $\Rightarrow$   
 $\Rightarrow m(\sphericalangle DPN) = m(\sphericalangle DCN)$

Patrulaterul ABDC este inscriptibil  $\Rightarrow$   
 $\Rightarrow m(\sphericalangle DCN) = m(\sphericalangle DAM)$

De unde se obține:  $m(\sphericalangle PAR) = m(\sphericalangle DAM) \Rightarrow m(\sphericalangle CAD) = m(\sphericalangle MAR)$

Patrulaterul ABDC inscriptibil  $\Rightarrow m(\sphericalangle CAD) = m(\sphericalangle CBD)$

Patrulaterul BMDN inscriptibil  $\Rightarrow m(\sphericalangle CBD) = m(\sphericalangle DMN)$

Deoarece  $DM \perp AB \Rightarrow m(\sphericalangle DMN) + m(\sphericalangle NMB) = 90^\circ \Rightarrow AR \perp MN$

Dar  $AR \perp NP$  și cum perpendiculara din punctul N pe AR este unică se obține că punctele M, N și P sunt coliniare.

### Problema lunii iunie 2012

**Autor:** Prof. Gheorghe ROTARIU, Grupul Școlar „Al. Vlahuță” Șendriceni, județul Botoșani

Fie:

$$p_1 = \sin 6^\circ \cdot \sin 30^\circ \cdot \sin 78^\circ \cdot \sin 222^\circ \cdot \sin 246^\circ ;$$

$$p_2 = \cos 6^\circ \cdot \cos 66^\circ \cdot \cos 78^\circ \cdot \cos 210^\circ \cdot \cos 222^\circ .$$

1. Calculați:

$$\int_1^3 \frac{\ln(32p_1 \cdot x + 2)}{x^2 + \frac{64\sqrt{3}}{3}p_2 \cdot x + 15} dx$$

2. Arătați că:

$$\frac{\sum_{k=1}^7 \cos^6 \theta_k \cdot \sin^8 \theta_k}{\sum_{k=1}^7 \left( \frac{1}{\cos^8 \theta_k} + \frac{1}{\sin^8 \theta_k} \right)} \leq \frac{6^3}{7^7} .$$

unde  $\theta_k \in \{6^\circ, 30^\circ, 66^\circ, 78^\circ, 210^\circ, 222^\circ, 246^\circ\}$ ,  $k = \overline{1,7}$ ,  $\theta_i \neq \theta_j$ ,  $\forall i \neq j$ ,  $i, j = \overline{1,7}$

( $\theta_k$  ia pe rând una din cele șapte valori).

Va rămâne de rezolvat și pentru luna iulie 2012, fiindcă deocamdata nu am primit nicio soluție completă. Dacă reușiți să o rezolvați scrieți pe [concurs@mateinfo.ro](mailto:concurs@mateinfo.ro)